

.....
Imię i nazwisko

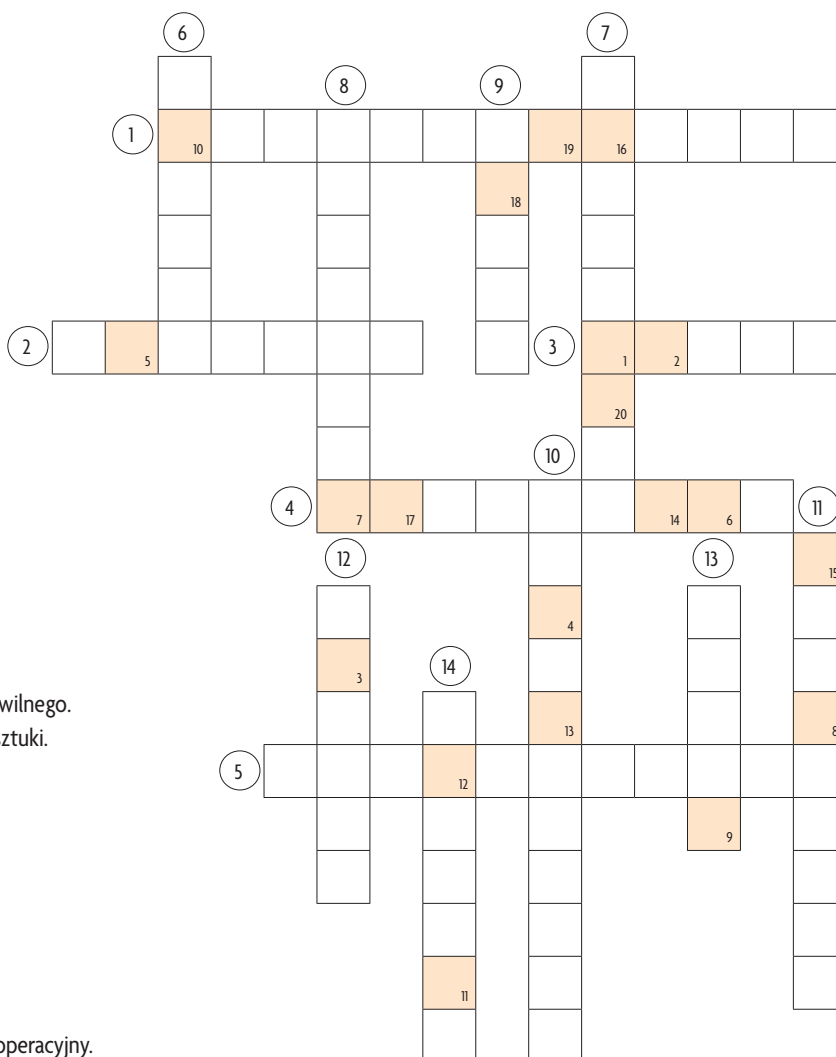
.....
Data

.....
Klasa

KARTA PRACY DO LEKCJI 33.

ROLA USŁUG W GOSPODARCE POLSKI

Zadanie 1. Rozwiąż krzyżówkę. Hasłami do wpisania są nazwy rodzajów usług. Rodzaj usług należy odgadnąć na podstawie zawodów. Dodatkowo, litery z pól ponumerowanych od 1 do 20 utworzą rozwiązanie. Wyjaśnij znaczenie tego terminu.



Hasła do krzyżówki

Poziomo:

- ① Urzędnik, minister, kierownik urzędu stanu cywilnego.
- ② Aktor, scenarzysta, reżyser, pracownik galerii sztuki.
- ③ Redaktor, korektor, wydawca.
- ④ Przewodnik, pilot wycieczek, wychowawca.
- ⑤ Nauczyciel, rektor, wykładowca.

Pionowo:

- ⑥ Akwizytor, kasjer, sprzedawca.
- ⑦ Kierowca, pilot, maszynista.
- ⑧ Grafik, administrator, projektant.
- ⑨ Inspektor pożarnictwa, komendant, dyżurny operacyjny.
- ⑩ Prokurator, adwokat, sędzia.
- ⑪ Kasjer, specjalista ds. kredytów krótkoterminowych, analityk.
- ⑫ Listonosz, naczelnik, kasjer.
- ⑬ Aktor, scenograf, sufler.
- ⑭ Komendant, oficer dyżurny, inspektor.

1	2	3	4	5	6	7
---	---	---	---	---	---	---

8	9	10	11	12	13	14
---	---	----	----	----	----	----

15	16	17	18	19	20
----	----	----	----	----	----

AUTOR: Piotr Stankiewicz




Zadanie 2. Wykonaj wykresy strukturalne przedstawiające udział poszczególnych sektorów gospodarki w tworzeniu PKB w trzech krajach o różnym poziomie rozwoju gospodarczego w 2014 r., a następnie uzupełnij tekst.

Tanzania	
Sektor	Udział (%)
Rolnictwo	26,5
Przemysł	25,6
Usługi	47,3

Polska	
Sektor	Udział (%)
Rolnictwo	3,4
Przemysł	40,1
Usługi	56,5

Francja	
Sektor	Udział (%)
Rolnictwo	1,7
Przemysł	19,4
Usługi	78,9

Źródło: <https://www.cia.gov/library/publications/the-world-factbook>



Rolnictwo

Przemysł

Usługi

Na wykresach przedstawiono strukturę tworzenia produktu krajowego brutto przez poszczególne sektory gospodarki. Najlepiej rozwiniętym gospodarczo krajem jest Udział usług w tworzeniu PKB wynosi tam %. Udział usług w tworzeniu PKB w Polsce jest niż we Francji. Wynosi %. W przypadku Tanzanii udział usług jest mniejszy niż w pozostałych krajach i wynosi %. W tym kraju wciąż ponad 1/4 PKB tworzy (26,5%).

Powyższe zestawienie wskazuje, że istnieje związek między udziałem usług w tworzeniu PKB a poziomem rozwoju gospodarczego kraju. Im kraj jest lepiej rozwinięty, tym udział usług jest

Zadanie 3. Wprowadzanie coraz nowocześniejszych maszyn w przemyśle i rolnictwie oraz bogacenie się społeczeństwa to czynniki wpływające na powstawanie nowych usług. Wyjaśnij, w jaki sposób każdy z tych czynników wpływa na rozwój usług.

Upowszechnianie nowoczesnych maszyn w rolnictwie i przemyśle	Wzrost zamożności społeczeństwa

Zadanie 4. Rozwijające się usługi mogą pozytywnie wpływać na inne dziedziny gospodarki. Opisz, jakie zmiany w regionie mogą wynikać z rozwoju poniższych usług. Skorzystaj z pytań pomocniczych.

Sytuacja I	Sytuacja II
<p>W województwie nie ma dużego lotniska pasażerskiego. Do stolicy kraju prowadzi jedynie droga krajowa oraz linia kolejowa. Rząd planuje wybudować duże, międzynarodowe lotnisko. Zastanów się, w jaki sposób powstanie dużego portu lotniczego może przyczynić się do wzrostu gospodarczego województwa.</p> <ul style="list-style-type: none">• Jakie miejsca pracy powstaną na lotnisku?• Jakie dodatkowe miejsca pracy powstaną w związku ze wzmożonym ruchem pasażerskim, wzrostem zapotrzebowania na noclegi, usługi gastronomiczne itp.?• Jak zmieni się atrakcyjność tego województwa dla inwestorów, którzy chcą rozwijać przemysł zawansowanych technologii?	<p>W niewielkim miasteczku powiatowym mieszczą się jedynie szkoły podstawowe, gimnazja i jedna szkoła średnia. Jeden z najważniejszych uniwersytetów w Polsce planuje otworzyć tam swoją filię. Zastanów się, w jaki sposób otwarcie dużej uczelni wyższej wpłynie na rozwój miasta.</p> <ul style="list-style-type: none">• Jakie miejsca pracy powstaną na uczelni?• Jakie znaczenie dla rozwoju przemysłu i usług będzie miała obecność ośrodka naukowego?• Jakie inne rodzaje usług rozwiną się, jeśli w miasteczku przybędzie znaczna liczba ludzi młodych – studentów uczelni?

.....

.....

.....

.....

.....

.....

.....

.....

.....

.....

.....

.....

.....

.....

.....

.....

.....

.....

.....

.....

.....

Zadanie 5. Podaj przykłady usług w swoim regionie (mieście) i oceń ich wpływ na rozwój gospodarczy okolicy.

.....

.....

.....

.....

.....

.....

.....

.....

.....

.....

.....

.....

.....

.....

.....

.....

.....

.....

.....

.....

AUTOR: Piotr Stankiewicz